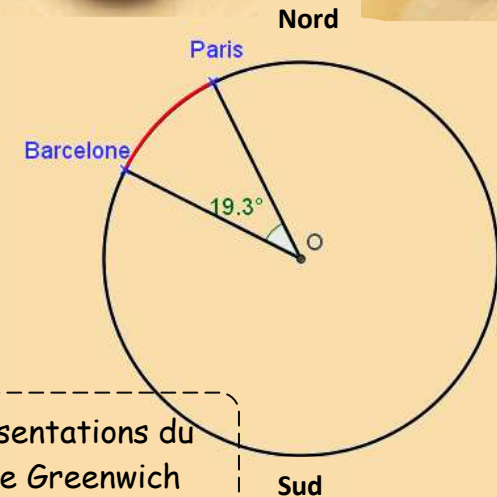
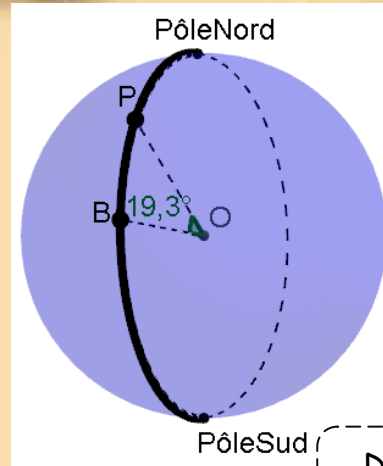
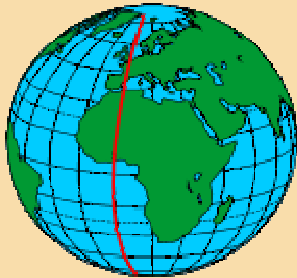


# VENDREDI

Homer, vous devez avoir une jolie vue sur la terre !



Deux représentations du Méridien de Greenwich

Vous saviez qu'en astronomie, les **méridiens** sont de grands cercles qui joignent les pôles !  
Le plus célèbre est le **méridien de Greenwich**.  
Il mesure 12 428 *miles*.

Quelle distance (en km) mesure le méridien entre la ville de Paris (P) et la ville de Barcelone (B) ?

Travaillez avec des valeurs entières, arrondissez vos résultats à l'unité !

Chiffre énigme 6

Chiffre énigme 7

En France, le *kilomètre (km)* est l'unité de longueur.  
 $1 \text{ mile} \approx 1,6093 \text{ km}$