



Olympiades académiques



de mathématiques

MINISTÈRE
DE L'ÉDUCATION NATIONALE,
DE L'ENSEIGNEMENT SUPÉRIEUR
ET DE LA RECHERCHE

Académie de NICE

TOUTES SERIES AUTRES QUE S

Mercredi 16 mars 2016

Première partie de 8 heures à 10 heures.

Exercices nationaux

L'épreuve se déroule en deux parties indépendantes de deux heures chacune, **les énoncés des deux parties sont séparés et distribués séparément à 8h puis à 10h10**. Les copies rédigées sont ramassées à l'issue de la première partie (« exercices nationaux »). Une pause de dix minutes est prévue, avant la seconde partie (« exercices académiques »). Les candidats ne sont pas autorisés à quitter les locaux avant ...

Les calculatrices sont autorisées selon la législation en vigueur.

Il est conseillé aux candidats qui ne pourraient formuler une réponse complète à une question d'exposer le bilan des initiatives qu'ils ont pu prendre.

Les énoncés doivent être rendus à la fin de chaque épreuve.

Les candidats traitent deux exercices.

Exercice national numéro 1 (à traiter par tous les candidats)



Échanges thermiques

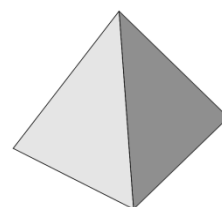
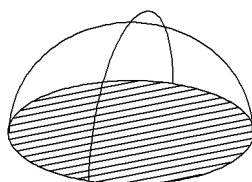
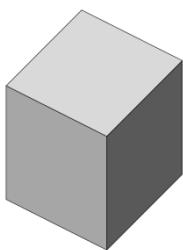
En architecture, on appelle facteur de compacité d'un bâtiment le rapport de la surface extérieure – y compris la base en contact avec le sol – de ce bâtiment, mesurée en m^2 , à son volume, mesuré en m^3 . Le facteur de compacité $c = \frac{S}{V}$, exprimé en m^{-1} , donne une première évaluation grossière des performances thermiques d'une construction d'habitation.

1. Calculs de compacité pour quelques volumes usuels, dessinés ci-dessous.

a. Déterminer le facteur de compacité d'un cube de côté a .

b. Déterminer celui d'une demi-sphère de rayon r . On rappelle que le volume d'une sphère de rayon r est $\frac{4}{3}\pi r^3$ et que sa surface a pour aire $4\pi r^2$.

c. Déterminer celui d'une pyramide régulière à base carrée de côté a , et de hauteur verticale a .



d. En quoi, d'après vous, le facteur de compacité est lié aux performances thermiques d'un bâtiment ?

2. On se propose d'étudier le facteur de compacité d'un pavé droit de volume 1 dont les dimensions en mètres sont x , y et z .

a. Vérifier que pour tous nombres a , b et c :

$$a^3 + b^3 + c^3 - 3abc = \frac{1}{2}(a+b+c)[(a-b)^2 + (b-c)^2 + (c-a)^2]$$

b. En déduire que pour tous nombres réels positifs a , b et c , $a^3 + b^3 + c^3 \geq 3abc$.

c. En déduire que pour tous nombres réels positifs A , B et C dont le produit est égal à 1 :

$$A + B + C \geq 3.$$

d. Montrer que le facteur de compacité de ce pavé est :

$$c = 2 \left(\frac{1}{x} + \frac{1}{y} + \frac{1}{z} \right).$$

e. Quel est le pavé droit de volume 1 qui rend minimal le facteur de compacité ?

3. Dans cette question, on désire déterminer tous les pavés droits dont le facteur de compacité est égal à 1 et dont les dimensions p , q et r , exprimées en mètres, sont des nombres entiers. On prendra $p \leq q \leq r$.

a. Établir que résoudre ce problème consiste à déterminer les triplets ordonnés d'entiers p , q et r tels que

$$\frac{1}{p} + \frac{1}{q} + \frac{1}{r} = \frac{1}{2}.$$

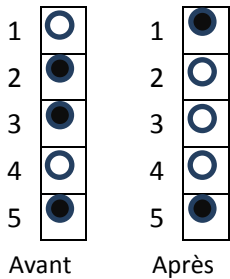
b. Démontrer que $3 \leq p \leq 6$.

c. Montrer que si $p = 3$ alors $7 \leq q \leq 12$.

d. Terminer la résolution.

Exercice national numéro 2 (à traiter par les candidats des séries autres que la série S)

Demi-tour !



On dispose n pions verticalement. Ils sont noirs sur une face, blancs sur l'autre, et sont numérotés de 1 à n . Au début du jeu, chaque pion présente aléatoirement sa face noire ou sa face blanche. **À chaque coup – qu'on appelle une opération dans toute la suite – on retourne un des pions et tous ses voisins du dessus.** Le dessin ci-contre donne l'exemple du changement qu'apporte à une configuration initiale une opération avec le troisième jeton.

L'objectif du jeu est de trouver une séquence d'opérations telle que tous les pions montrent leur face blanche.

1. L'ordre dans lequel se succèdent deux opérations a-t-il de l'importance ?

2. Quel est l'effet combiné de deux opérations identiques ?

3. Indiquer les numéros des pions à retourner pour ne voir que des faces blanches, dans les situations représentées ci-contre.

4. On donne l'algorithme suivant, pour une configuration de n cases :

Pour k allant de n à 1 par pas de -1

Si le jeton k est noir, effectuer une opération avec ce jeton

Fin Pour

a. Expliquer pourquoi cet algorithme blanchit la colonne en un minimum d'opérations. Combien d'opérations met-il au maximum en œuvre ?

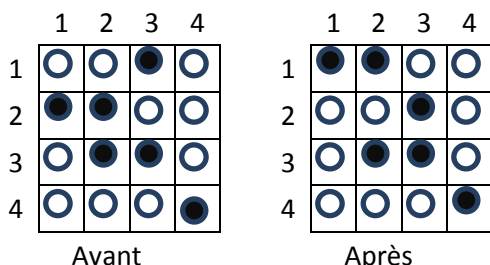
b. Donner un exemple de configuration de n cases nécessitant n opérations.

5. Dans cette question et les suivantes, on change légèrement les règles du jeu en en proposant des variantes :

a. À chaque coup – qu'on appelle toujours une opération – on retourne un des pions et son voisin du dessus uniquement (quand il en a un). Prouver qu'il est toujours possible de blanchir la colonne.

b. À chaque coup – qu'on appelle toujours une opération – on retourne un des pions et son voisin du dessus quand il en a un, le dernier sinon. Ainsi, agir sur le pion $n^{\circ}1$ retourne et le $n^{\circ}1$ et le $n^{\circ}n$. Donner, en le justifiant, un exemple de configuration à 4 jetons qui soit impossible à blanchir.

6. Jeu à deux dimensions.



On considère maintenant un plateau carré de $n \times n$ cases. Les jetons ont une face noire et une blanche. Le but du jeu est de rendre visible les seules faces blanches. Les cases sont numérotées de haut en bas et de gauche à droite, et le jeton situé à l'intersection de la ligne i et de la colonne j est appelé jeton (i, j) . Une opération est définie ainsi : **lorsque l'on retourne le jeton (i, j) , on forme un rectangle dont le coin supérieur gauche est le jeton $(1, 1)$ et le coin inférieur droit est le jeton (i, j) : tous les jetons situés dans ce rectangle sont retournés.** L'exemple ci-dessus montre ce qu'il se passe quand on retourne le jeton $(2, 3)$ d'un plateau 4×4 .

Proposer un algorithme qui fasse apparaître toutes les faces blanches d'un plateau $n \times n$ en moins de n^2 opérations.

7. Proposer un jeu analogue à trois dimensions.